

Les coordonnées géographiques A

Psst !
 Consulte les pages 24 à 27
 du fascicule *Cartes et croquis*
 pour répondre aux questions.

1 Quel est le nom du parallèle qui divise la Terre en deux hémisphères ?


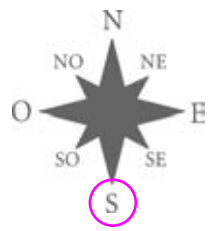
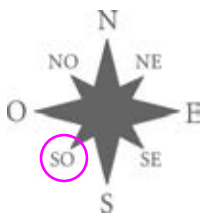
L'équateur.

2 Quel est le nom du méridien qui divise la Terre en deux hémisphères ?

Le méridien de Greenwich.

3 Sur ces roses des vents, encercle le point cardinal qui indique où se trouve chacun de ces lieux.

- a) La ville de Vancouver au Canada. b) La ville du Cap en Afrique. c) Le Japon en Asie.



4 Encerle la réponse qui complète correctement l'énoncé.

- a) Le Chili se trouve au [sud-ouest | nord-est | sud-est | nord-ouest] de la Bolivie.
 b) La Moldavie se trouve au [sud-ouest | nord-est | sud-est | nord-ouest] de la Roumanie.
 c) Le Cambodge se trouve au [sud-ouest | nord-est | sud-est | nord-ouest] de la Thaïlande.

5 Dans quels hémisphères chacun de ces lieux est-il situé ?

	Nord	Sud	Est	Ouest
a) L'Amérique du Sud	<input type="checkbox"/>	<input checked="" type="checkbox"/>	<input type="checkbox"/>	<input checked="" type="checkbox"/>
b) L'Australie	<input type="checkbox"/>	<input checked="" type="checkbox"/>	<input checked="" type="checkbox"/>	<input type="checkbox"/>
c) Moscou	<input checked="" type="checkbox"/>	<input type="checkbox"/>	<input checked="" type="checkbox"/>	<input type="checkbox"/>
d) Le mont McKinley	<input checked="" type="checkbox"/>	<input type="checkbox"/>	<input type="checkbox"/>	<input checked="" type="checkbox"/>
e) Le Nil	<input checked="" type="checkbox"/>	<input type="checkbox"/>	<input checked="" type="checkbox"/>	<input type="checkbox"/>

6 Écris le nom du pays qui correspond à chacune de ces coordonnées géographiques.

Psst !
 Consulte les pages 6 et 7
 de ton fascicule *Cartes et croquis*.

- a) 40° N, 100° O : États-Unis. f) 0°, 120° E : Indonésie.
 b) 20° N, 20° E : Tchad. g) 60° N, 100° O : Canada.
 c) 0°, 40° E : Kenya. h) 60° N, 100° E : Russie.
 d) 40° N, 100° E : Chine. i) 40° N, 60° E : Turkménistan.
 e) 20° S, 60° O : Paraguay. j) 40° N, 140° E : Japon.



- 7** Indique les coordonnées géographiques approximatives de chacun de ces lieux.



Psst !

Consulte l'index de ton miniatlas pour trouver la carte qui situe ces lieux.

- a) Caracas : 10° N, 67° O f) Manille : 15° N, 121° E
 b) Le Caire : 30° N, 31° E g) Tokyo : 35° N, 140° E
 c) Oslo : 60° N, 11° E h) Montréal : 45° N, 73° O
 d) Paris : 49° N, 2° E i) Beijing : 40° N, 116° E
 e) Les îles Galapagos : 0°, 91° O j) Hawaï : 20° N, 155° O

- 8** a) Nomme trois pays d'Afrique traversés par le méridien de Greenwich. *Exemples de réponses : L'Algérie, le Mali, le Burkina Faso et le Ghana.*

- b) Nomme les pays d'Amérique du Nord traversés par le méridien de 100° O.

Le Canada, les États-Unis et le Mexique.

- c) Nomme les pays d'Amérique du Sud traversés par l'équateur.

L'Équateur, la Colombie et le Brésil.

- d) Nomme quatre pays d'Afrique traversés par l'équateur. *Exemples de réponses :*

Le Gabon, le Congo, la République démocratique du Congo, l'Ouganda, le Kenya et la Somalie.

- e) Nomme un pays d'Asie traversé par l'équateur.

L'Indonésie.

- 9** Dans chaque cas, indique la ville située le plus près des coordonnées géographiques.

Note : Les résultats de cet exercice pourraient varier si l'élève consulte un document de référence autre que le miniatlas.



Psst !

Sur une carte du monde de ton miniatlas, repère d'abord le continent où se trouvent les coordonnées, utilise ensuite la carte de ce continent pour trouver la ville.

- a) 53° N, 113° O : Edmonton. f) 37° N, 10° E : Tunis.
 b) 30° N, 90° O : La Nouvelle-Orléans. g) 50° N, 15° E : Prague.
 c) 10° N, 67° O : Caracas. h) 43° N, 23° E : Sofia.
 d) 0°, 79° O : Quito. i) 40° N, 50° E : Bakou.
 e) 9° N, 39° E : Addis-Abeba. j) 48° N, 108° E : Oulan-Bator.